

# Találkozás a természettel



- Felsorolunk néhány élőlényt. Írjátok be a számokat az előző képen látható élőhelyekbe! Amelyek kimaradtak, azok melyik élőhelyhez tartoznak?

1. zöld lombos szöcske
2. gyöngyvirág
3. gyékény
4. pongyola pitypang
5. nagy tarkaharkály
6. mocsári teknős
7. fehér gólya
8. kökény
9. vízisikló

10. ürgegyík
11. egerészölyv
12. tőkésréce
13. barna varangy
14. kecskefűz
15. nagy hőscincér
16. szarvasbogár
17. mezei zsurló
18. szürke gém

19. ponty
20. mezei katáng
21. májusi cserebogár
22. erdei egér
23. nád
24. folyami rák
25. vadrózsa
26. mókus
27. kocsányos tölgy

.....

.....

.....

- Ábránkon a nyílt víztől a partokig mutatjuk be az élőlényeket. Állítsátok helyes sorrendbe a következőket, és írjátok a kép alá!




1. Bokros-füzes
2. Hínáros
3. Nyílt víz
4. Gyékényes
5. Erdő
6. Nádas



.....



- Nevezzétek meg az élőhelyeket a képen! Ismerjétek fel az állatfajokat, és a számukat írjátok be a megfelelő élőhelyekhez tartozó körbe!



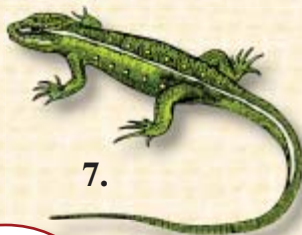
1.



2.



3.



7.




5.



4.



6.



8.

