

Nagyné Horváth Magdolna

## **TÖRTÉNELEM**

Az 5. osztályos történelmi  
témakörökhöz kapcsolódó  
**GYAKORLÓ FELADATLAPOK**  
**MEGOLDÁSSAL**

# 1. Gyakorló feladatlap

## SZEMÉLYES TÖRTÉNELEM

**1. Olvasd el az írott forrás részletét, majd oldd meg a feladatokat!**

„...*(István király) apja, akit Gézának neveztek, igencsak kegyetlen volt, és sokakat ölt meg hirtelen felindulásból. Mikor kereszténnyé lett, indulatosan lépett fel tusakodó alattvalóival szemben e hit megerősítéséért, és a régi bűnt az Isten iránti buzgalomtól felbuzdulva elsöpörte.*”

(Thietmar merseburgi püspök /1018/ krónikája)

**a) Aláhúzással jelöld a szöveg – történelmi szempontból – fő témáját!**

A szöveg Géza fejedelem kegyetlenségéről szól.

Géza fejedelem erőteljesen fellépett a kereszténység védelmében az ősi magyar hit híveivel szemben.

Géza fejedelem keresztény hitre tért.

**b) Gyűjts ki néhány történelmi adatot a szövegből!**

Honnan való a szövegrészlet? .....

Milyen nyelven írták az eredeti szöveget? .....

Ki volt a szöveg írója? .....

Hány év telt el a szöveg keletkezése óta? .....

A szöveg írója szerint milyen vallás hívei álltak egymással szemben? .....

.....

Mi derül ki a szövegből: melyik vallás hívei kerültek jobb helyzetbe? .....

.....

**2. Írd a tárgyak képe alá a tárgy nevét, majd a tárgy neve alá a történelmi kort, amelyben keletkezett!**




3. Soronként húzd alá, melyik esemény történt korábban!

az Aranybulla kiadása (1222) – Hunyadi János diadala Nándorfehérvárnál (1456)  
az ember a Holdra szállt (1968) – Gutenberg feltalálta a könyvnyomtatást (1445)

4. a) Hanyadik század? Írd le a századokat római számokkal!

Kr. e. 490.: ..... i. sz. 2022.: .....

b) Írd át a római számokat arab számmá!

MCCCI: ..... MCDLVI: .....

5. a) Számítsd ki, hány év telt el az 1848. március 15-én történt forradalom óta! Mondatban válaszolj!

Számítás: .....

Válasz: .....

b) Számítsd ki, hány év telt el a görög időszámítás kezdete (Kr. e. 776.) és az ókor vége (476) között!

Számítás: .....

Válasz: .....

6. Nevezd meg a történelmi források csoportjait!



húsvéti locsolkodás  
kiszabábégetés  
farsangolás

--	--	--

# MEGOLDÁS

1. *a)* Géza fejedelem erőteljesen fellépett a kereszténység védelmében az ősi magyar hit híveivel szemben.
- b)* – Thietmar merseburgi püspök (1018) krónikájából való a szöveg.  
– Latinul írták.  
– Thietmar merseburgi püspök az író.  
– 1003 évvel ezelőtt írták a szöveget (2021-es évhez viszonyítva).  
– A régi (pogány) vallás hívei álltak szemben a keresztény vallással.  
– A szövegből kiderül, hogy a keresztények voltak kedvezőbb helyzetben, mert a fejedelem így akarta.
2. tablet                                      lovagi páncél                                      egyiptomi piramis a szfinxszel  
modern kor/jelenkor                      középkor                                      ókor
3. az Aranybulla kiadása (1222)  
Gutenberg feltalálta a könyvnyomtatást (1445)
4. *a)* Kr. e. 490.: Kr. e. V. sz.                                      i. sz. 2022.: XXI. sz.  
*b)* MCCC1: 1301                                      MCDLVI: 1456
5. *a)* Számítás:  $2021 - 1848 = 173$   
Válasz: Az 1848-as forradalom óta 173 év telt el.  
*b)* Számítás:  $776 + 476 = 1252$   
Válasz: A görög időszámítás kezdete és a középkor kezdete között 1252 év telt el.
6. írott forrás – ha a könyv írott szövegét vizsgáljuk, tárgyi emlék – ha a könyv anyagát vizsgáljuk  
tárgyi emlék  
ősi eredetű szokások, hagyományok

## 2. Gyakorló feladatlap

### FEJEZETEK AZ ÓKOR TÖRTÉNETÉBŐL

1. Nevezd meg a képen látható tárgyakat! Írd a megnevezésük alá, melyik ókori nép életmódjára utalnak!




2. Milyen jellegzetes római mintájú építményeket emeltek a provinciák városaiban? Nevezd meg két ilyen építményt!

.....

3. a) Számítsd ki, hány évig állt fenn a Római Birodalom az alapítástól a Nyugatrómai Birodalom bukásáig! Mondatban válaszolj!

Számítás: .....

Válasz: .....

.....

- b) Számítsd ki, hány év telt el az első lejegyzett olümpiai játékoktól a marathóni csatáig! Mondatban válaszolj!

Számítás: .....

Válasz: .....

.....

4. Húzd alá a helyes választ!

A görögöknek és a rómaiaknak többistenhitű vallásuk volt.

igaz – hamis

Julius Caesar az első császár volt a Római Birodalomban.

igaz – hamis

A görögök és a rómaiak barbárnak tartották azokat, akik különböztek tőlük, és nem vették át műveltségüket.

igaz - hamis

A Római Birodalomban a köztársaságkori „betegségek” közé tartozott a földközi-tengeri kalózkodás.

igaz – hamis

- Nagy Sándor hadseregének ereje a falanx volt. igaz – hamis
- Pannónia a császárkor végén lett a birodalom provinciája. igaz – hamis
- Róma „örököse” a Bizánci Birodalom lett. igaz – hamis
- Az olümpiák idején a görög poliszok békét kötöttek egymással. igaz – hamis

5. Rendszerezze! Írd le a személynevekhez, melyik néphez tartoztak, miről nevezetesek!  
Zeusz Kheopsz Hannibál Nagy Sándor Attila

Valóban élt:	Kitalált személy:
név: .....	név: .....
nép: .....	nép: .....
nevezetesség: .....	nevezetesség: .....
.....	.....
.....	.....
Valóban élt:	
név: .....	
nép: .....	
nevezetesség: .....	
.....	
.....	
Valóban élt:	
név: .....	
nép: .....	
nevezetesség: .....	
.....	
.....	
Valóban élt:	
név: .....	
nép: .....	
nevezetesség: .....	
.....	
.....	

# MEGOLDÁS

1. múmiák                      út  
egyiptomi                      rómaiak
2. A provinciák városaiban római mintára épültek az utak, a hidak, a vízvezetékek, a fórumok, a katonai táborok, a lakóházak, az amfiteátrumok, a fürdők.
3. a) Számítás:  $753 + 476 = 1229$   
Válasz: A Római Birodalom az alapítástól a Nyugatrómai Birodalom bukásáig 1229 évig állt fenn.
- b) Számítás: (Kr. e.) 776 – (Kr. e.) 490 = 286  
Válasz: Az első lejegyzett olümpiai játékoktól a marathóni csatáig 286 év telt el.
4. A görögöknek és a rómaiaknak többistenhitű vallásuk volt. igaz – hamis  
Julius Caesar az első császár volt a Római Birodalomban. igaz – hamis  
A görögök és a rómaiak barbárnak tartották azokat, akik különböztek tőlük, és nem vették át műveltségüket. igaz - hamis  
A Római Birodalomban a köztársaságkori „betegségek” közé tartozott a földközi-tengeri kalózkodás. igaz – hamis  
Nagy Sándor hadseregének ereje a falanx volt. igaz – hamis  
Pannónia a császárkor végén lett a birodalom provinciája. igaz – hamis  
Róma „örököse” a Bizánci Birodalom lett. igaz – hamis  
Az olümpiai idején a görög poliszok békét kötöttek egymással. igaz – hamis

5.

Valóban élt:	Kitalált személy:
név: Kheopsz nép: egyiptomi nevezetesség: Piramisépítő fáraó volt, az ő piramisa a legnagyobb.	név: Zeusz nép: görög nevezetesség: A görögök főistene, az istenek és az emberek atyja.
Valóban élt:	
név: Hannibál nép: pun nevezetesség: Hadvezér, aki harcokat folytatott a rómaiakkal; seregével átkelt az Alpokon, a végső csatát elvesztette.	
Valóban élt:	
név: Nagy Sándor nép: makedón nevezetesség: Több csatában legyőzte a perzsákat; hatalmas birodalmat épített a Balkán-félszigettől Indiáig.	
Valóban élt:	
név: Attila nép: hun nevezetesség: A hun uralkodó hatalmas birodalmat épített, amely halála után felbomlott. Több sikeres csatát vívott a rómaiakkal.	

# 3. Gyakorló feladatlap

## A KERESZTÉNYSÉG

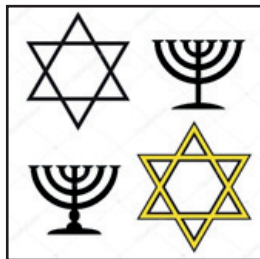
1. Nevezd meg a Biblia részeit! Írd le számokkal, hogy egy-egy megállapítás melyik részhez tartozik!

A Biblia első része: .....

A Biblia második része: .....

1. Noé bárkát épít    2. Jézus csodákat tett    3. A zsidók megérkeztek Kánaánba  
4. „Pálfordulás”    5. A három királyok köszöntése

2. Nevezd meg a képeken látható jelképeket! Írd a megnevezés alá, melyik vallási közösség jelképe!




3. Számozással alakítsd ki az újszövetségi történetek helyes időrendjét!

- Jézust Pilátus elé vitték  
 Jézus Krisztus feltámadt  
 Virágvasárnapi bevonulás  
 Jézus csodákat tett  
 Júdás árulása

4. Mit ünneplünk ezeken a keresztény ünnepeken? Mikor tartjuk ezeket az ünnepeket?

karácsony	húsvét	pünkösd

5. Hogyan kapcsolódnak Jézus Krisztus életéhez a következő személyek, helyek?



Mária és József:

Péter:

Názáret:

Jeruzsálem:

6. Nevezd meg, hogy Jézus Krisztus melyik csodatételét ábrázolja a kép!



A csoda megnevezése:

.....

Mit bizonyított Jézus a csodáival?

.....

.....

.....

.....

# MEGOLDÁS

1. 

A Biblia első része: Ószövetség, 1., 3.
---

A Biblia második része: Újszövetség, 2., 4., 5.
---

2. zsidó jelképek: menóra, Dávid-csillag  
keresztény jelképek: kereszt, galamb zöld ággal

3. 4. Jézust Pilátus elé vitték  
5. Jézus Krisztus feltámadt  
2. Virágvasárnapi bevonulás  
1. Jézus csodákat tett  
3. Júdás árulása

4.

karácsony	húsvét	pünkösd
Jézus Krisztus születésének ünnepe december 24-én.	Jézus Krisztus feltámadásának ünnepe.	A Szentlélek kiáradásának ünnepe, az egyház születésnapja.
Karácsony ünnepe december 25-26-án.	A tavaszi napéjegyenlőséget követő első holdtölte utáni vasárnap van húsvét vasárnapja (mozgó ünnep)	A húsvét utáni 7. vasárnap/ a húsvét utáni 50. nap lett pünkösd vasárnapja (mozgó ünnep).

5. Mária és József: Jézus édesanyja és nevelőapja.  
Péter: A 12 apostol egyike, Jézus követője, Róma város első püspöke.  
Názáret: Itt nevelkedett Jézus.  
Jeruzsálem: Jézus dicsőséges virágvasárnapi bevonulásának, majd elárulásának, elítélésének helye; itt feszítették keresztre, itt halt meg, itt temették el, itt támadt fel.
6. Jézus gyógyíthatatlannak tűnő betegeket gyógyít.  
Jézus a csodáival bizonyítja, hogy ő a Megváltó.

# 4. Gyakorló feladatlap

## A KÖZÉPKOR VILÁGAI

1. a) Indokold a képen látható technikai újítás előnyeit!



Nevezd meg az újítást! .....

Indoklás: .....

.....

b)



Milyen földművelési módot szemléltet az ábra?

.....

Mire használták az ugart? .....

.....

2. a) Milyen társadalmi csoportokból lettek jobbágyok?

.....

.....

b) Véleményed szerint mi volt a jobbágyok életében a legnehezebb? Indokold az állításodat!

.....

.....

.....

.....

3. Aláhúzással dönts el az állításról: igaz vagy hamis!

A várakban gyakran gondot jelentett a vízellátás.

igaz – hamis

A középkori várak kényelmes lakóhelyek voltak.

igaz – hamis

A lakótorony többszintes volt.

igaz – hamis

4. a) Melyik egyházi rend szabályai szerint működött, illetve működik Pannonhalmán az apátság? .....

b) Mi ennek az egyházi rendnek a jelmondata?

.....

c) Milyen hasznos munkát végeztek a szerzetesek a kolostorokban?

.....  
.....

5. a) Számozással alakítsd ki a könyvnyomtatás munkájának rendjét!

- ..... sajtolás
- ..... az ólomból öntött betűkből a szöveg kirakása
- ..... az ólombetűk festése
- ..... a nyomtatott lapok könyvvé fűzése
- ..... a papír ráhelyezése a betűkre

b) Ki találta fel a könyvnyomtatást, hanyadik században, melyik országban?

.....  
.....

6. a) Húzd alá a reneszánsz ember gondolkodására igaz kifejezéseket!

- a mindennapi élet örömeinek, pl. a szerelemnek a megélése
- napi többórnyi imádkozás
- a mennyország várása
- a földi élet szeretete

b) Melyik korstílust váltotta fel a reneszánsz? .....

# MEGOLDÁS

1. a) szügyhám

Megsokszorozta az igavonó erőt; az állatnak is jobb volt, mert nem fulladozott, mint a korábbi nyakpánttól.

b) kétnyomásos gazdálkodás

Az ugar az egyik évben pihent (legelőnek használták), a következő évben felszántották és bevetették.

2. a) A középkori jobbágyok felszabadított rabszolgákból és földesúri szolgálatba álló szabadokból lettek.

b) Pl.: Fügött a földesúrtól, mindenben engedélyt kellett kérnie. Szolgáltatásokkal tartozott földesurának (terményeinek egy részét át kellett adnia, robotolt a majorságban, ajándékokkal is tartozott). A földesúr engedélye nélkül nem költözhetett másik földesúri birtokra. A földesúr volt a bírója is.

Pl.: Nagyon sokat kellett dolgoznia, nehéz fizikai munkát végzett (szántás, aratás, kapálás, állatok gondozása, házának megépítése...). Csak azzal rendelkezett, amit maga állított elő.

Pl.: Tisztálkodni, fürdőszoba hiányában, szinte alig lehetett. Keveset evett, nem volt változatos az étrendje. Alig voltak ismeretei a világról. Többnyire még a faluja határát sem hagyta el egész életében. Nagy volt a gyermekhalandóság, a maihoz képest fele volt az átlagéletkor.

3. A várakban gyakran gondot jelentett a vízellátás.

A középkori várak kényelmes lakóhelyek voltak.

A lakótorony többszintes volt.

igaz – hamis

igaz – hamis

igaz – hamis

4. a) bencés rend

b) „Imádkozzál és dolgozzál!”

c) A szerzetesek hasznos munkái: tanítás, gyógyítás, kódexek másolása, mintagazdaságok működtetése (méhészet, borászat, szőlészet...)

5. a) 4. sajtolás

1. az ólomból öntött betűkből a szöveg kirakása

2. az ólombetűk festése

5. a nyomtatott lapok könyvvé fűzése

3. a papír ráhelyezése a betűkre

b) A könyvnyomtatást a XV. században Gutenberg német nyomdász találta fel.

6. a) Aláhúzendó: – a mindennapi élet örömeinek, pl. a szerelemnek a megélése

– a földi élet szeretete

b) A reneszánsz a gótikát váltotta fel.

# 5. Gyakorló feladatlap

## KÉPEK ÉS PORTRÉK AZ ÁRPÁD-KOR TÖRTÉNETÉBŐL

1. Milyen következményei lettek a vérszerződésnek?

A vérszerződés előtt:	A vérszerződés utáni változás:
A magyarokat hét vezér irányította.	
A törzseknek elkülönült haderejük volt.	

Hol történt a vérszerződés? .....

Hazánktól milyen irányban van ez a történelmi hely? .....

Kik a székelyek? .....

2. Milyen népeket találtak elődeink a Kárpát-medencében a honfoglalás idején? Húzd alá a megfelelő népneveket!

angolok spanyolok morvák keleti frankok görögök rómaiak szlávok tatárok

3. Számítsd ki, hány évig tartott az Árpád-kor a honfoglalástól az Árpád-ház fiúági kihalásáig! Mondatban válaszolj!

Számítás: .....

Válasz: .....

4. Röviden mutasd be a IX. század két európai harcosát!



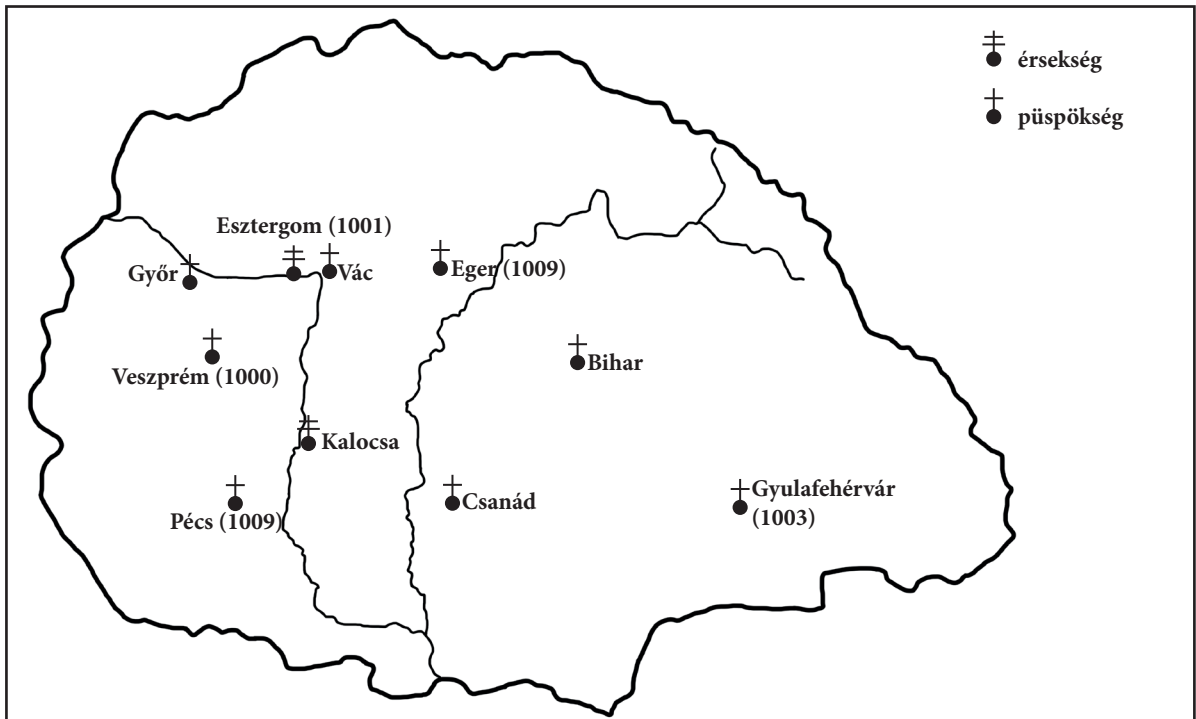
Milyen harcost ábrázol a kép? .....	Milyen harcost ábrázol a kép? .....
Legfontosabb fegyvere: .....	Legfontosabb fegyvere: .....

5. Sorold fel a honfoglalás kori törzsneveinket!

.....

6. Nevezd meg Szent István király egyháztámogató törvényét, amelyet a térképvizlat szemléltet!

.....



Melyik püspökséghez tartozott a te lakóhelyed a XI. században? (Ha a település ekkor még nem létezett, akkor ezt kell leírni.) .....

A megadott adatok alapján írd le, hol jött létre az első püspökség? .....

Nevezd meg a két érseki központot! .....

7. Írd le a nevüket a jeles Árpád-kori történelmi személyeknek!

<ul style="list-style-type: none"> <li>• Bencés szerzetes vagyok.</li> <li>• A trónörökös nevelését rám bízták.</li> <li>• Püspökséget vezetek.</li> <li>• Szívesen élnék remeteként.</li> </ul>	<ul style="list-style-type: none"> <li>• Édesapám erős, gazdag országot hagyott rám.</li> <li>• Híveimet örökjogon birtokokkal, tisztségekkel halmoztam el.</li> <li>• Nemeseimnek aranypecsétetes oklevélben adómentességet ígértem.</li> </ul>

8. Készítsd el Szent István király névjegyét!

..... ..... ..... .....
Szent István király

9. Mi volt uralkodóink tetteinek célja? Folytasd a megkezdett mondatokat!

I. András király a felperzselt föld taktikáját alkalmazta a német támadások idején azért, hogy .....

Kálmán király elrendelte, hogy az ország határain az árucikkek után vámot kell fizetni azért, hogy .....

10. Adj címet az Árpád-kori mondának, legendának! Írd a monda címét a megfelelő kép alá!

rózsza



liliom



--	--

Válassz egyet, és röviden foglald össze a történetet! Az összegzésben legyenek benne a következő történelmi tények: a monda főbb történése, a történelmi személy neve!

.....  
.....  
.....  
.....  
.....  
.....

A kiválasztott monda valóságelemei (2):

.....  
.....

11. Nevezd meg az Árpád-kori ereklyénket! Hol található ez az ereklye?



Az ereklye neve: .....

Itt található: .....

.....

12. Döntsd el az állításról, hogy igaz vagy hamis! Húzd alá a megfelelő választ!

A Szent Koronával Szent István királyt koronázták először. igaz – hamis

A koronázási jelvények legrégebbi darabja a jogar. igaz – hamis

Az országalmán az Árpád-házi királyok címere látható. igaz – hamis

A koronázási palást államalapító királyunk idején készült. igaz – hamis

A koronázási paláston látható Szent István, Szent Imre és Boldog Gizella. igaz – hamis

A koronázási jelvények legfiatalabb darabja a kard. igaz – hamis

# MEGOLDÁS

- A vérszerződés előtt:  
A magyarokat hét vezér irányította.  
A törzseknek elkülönült haderejük volt.

A vérszerződés utáni változás:  
Egyeduralom a fejedelemmel az élen. A kettős fejedelemség Kurszán halálával 904-ben véget ért.  
A törzsek egyesítették hadi erejüket.

A vérszerződés Etelközben történt.  
Etelköz hazánktól keletre található.  
A székelyek eredete vitás. Vagy a hozzánk csatlakozott kabarok leszármazottai, akik átvették a nyelvünket, vagy a Kárpát-medencében korábban megtelepedett avarok voltak az őseik.
2. angolok spanyolok morvák keleti frankok görögök rómaiak szlávok tatárok
3. Számítás:  $1301 - 895 = 406$   
Válasz: Az Árpád-kor 406 évig tartott.
4. nyugati páncélos lovag honfoglalás kori magyar harcos  
páncélzat, sisak, kard, pajzs, kopja, tőr íj, szablya, balta, lándzsa
5. Törzsneveink: Nyék, Megyer, Kürt-Gyarmat, Tarján, Jenő, Kér, Keszi
6. Tíz püspökséget alapított.  
Debrecen a bihari érsekséghez tartozott az Árpád-korban.  
Az első püspökség Veszprémben jött létre.  
A két érseki központ: Esztergom, Kalocsa.
7. Gellért püspök II. András
8. Szent István király névjegye:  
Pl.: Nyugat-európai mintára megkoronáztak, elsőként a magyarok között.  
Megalapítottam a magyar államot, vármegyéket szerveztem.  
Létrehoztam a keresztény egyházi szervezetet.  
Törvényekben védtem a keresztény szokásokra áttért magyar híveimet.  
Fiamat keresztény uralkodónak neveltem.  
Fiainak Intelmek címmel összegeztem az uralkodó helyes magatartását.
9. I. András király a felperzselt föld taktikáját alkalmazta azért, hogy a hazánkra törő ellenségnek ne legyen élelme, utánpótlása, így könnyebben le lehessen győzni / hogy biztosítsa az ország területi védelmét a betörő ellenséggel szemben.  
Kálmán király elrendelte, hogy az ország határain az árucikkek után vámot kell fizetni azért, hogy gyarapítsa a királyi kincstár bevételeit.
10. Szent Erzsébet / A rózsalegenda Szent Margit  
Erzsébet hercegnő egy német gróf felesége lett (Tübingiában). Vagyonából egész életében a szegényeket támogatta. Ezt környezete nem nézte jó szemmel. Amikor a kosarát ellenőrizték, a szegényeknek szánt kenyerek rózsává változtak.  
Szent Margit – Margit hercegnőt apja, IV. Béla király apácának szánta, így kérve Isten segítségét a tatár veszedelemmel szemben. A tatárok kivonultak az országból. A királyi felajánlásnak megfelelően Margit hercegnő a domonkos apácákhoz került a Nyulak szigetére. A királylány örömmel végezte a legnehezebb munkákat is a kolostorban. Kitűnt példamutató keresztény éle-

tével.

Valóságselemek:

Erzsébet hercegnő valóban élt, II. András király lánya volt. Valóban egy német gróf felesége lett. Vagyonának jelentős részét a szegények, a koldusok támogatására fordította.

Szent Margit valóban élt a domonkos rendi apácák között, ő volt IV. Béla Margit nevű lánya. A kolostor romjai ma is állnak a róla elnevezett Margitszigeten, Budapesten.

11. Szent Jobb – Szent István király jobb keze

Budapest, Szent István-bazilika; Szent Jobb-kápolna

12. A Szent Koronával Szent István királyt koronázták először.

A koronázási jelvények legrégebbi darabja a jogar.

Az országalmán az Árpád-házi királyok címere látható.

A koronázási palást államalapító királyunk idején készült.

A koronázási paláston látható Szent István, Szent Imre és Boldog Gizella.

A koronázási jelvények legfiatalabb darabja a kard.

igaz – hamis

igaz – hamis

igaz – hamis

igaz – hamis

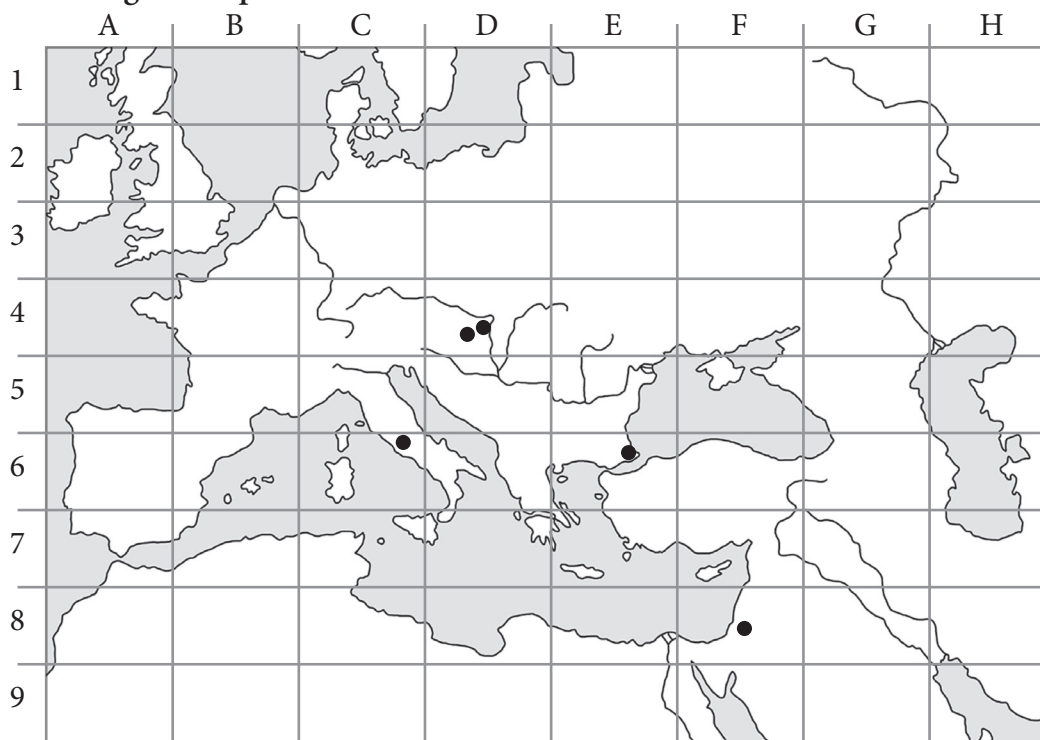
igaz – hamis

igaz – hamis

# 6. Gyakorló feladatlap

## ÉV VÉGI FELADATSOR

### 1. Oldd meg a térképes feladatokat!



a) Írd a térképvázlatba a betűjelét:

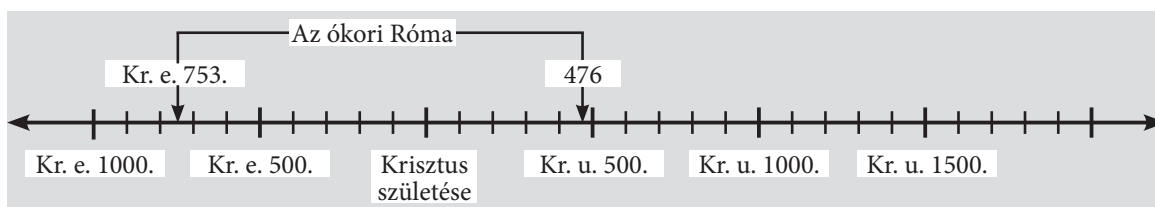
A – Itália; B – Egyiptom; C – Palesztina; D – Pannónia!

b) Melyik betű-szám kapcsolat jelöli a történelmi helyeket?

..... Róma ..... Jeruzsálem ..... Konstantinápoly/Bizánc

..... Aquincum ..... Székesfehérvár

### 2. Jelöld az időszalagon a következő évszámokat!



A honfoglalás    B a középkor kezdete    C az Aranybulla kiadása    D Róma alapítása

3. a) Számold ki, hány évig tartott a Magyar Királyság korai szakasza Szent István koronázásától az Árpád-ház fiúági kihalásáig! Mondatban válaszolj!

Számítás: .....

Válasz: .....

- b) Számold ki, hogy a középkor hanyadik évében kezdődött a tatárjárás Magyarországon! Mondatban válaszolj!

Számítás: .....

Válasz: .....

4. Melyik században történt? Válaszolj római számmal!

A könyvnyomtatás feltalálása és elterjedése Európában: .....

A Magyar Királyság alapítása: .....

A keresztes háborúk kezdete: .....

A Nyugatrómai Birodalom bukása: .....

A keresztény vallás kialakulása: .....

Magyar kalandozó hadjáratok: .....

Reneszánsz: .....

5. Soronként húzd alá a korábbi eseményt!

vízvezetékek építése a Római Birodalomban – az öntözéses földművelés kezdete Egyiptomban

a keresztény időszámítás kezdete – az iszlám időszámítás kezdete

a középkor kezdete – az első lejegyzett olimpiai játékok

6. Soronként karikázd be annak a nevét, aki nem volt kortársa a többinek!

Julius Caesar      Nagy Konstantin      Augustus

Leonardo da Vinci      Michelangelo      Nagy Károly frank uralkodó

Attila      Koppány      Imre herceg      Gizella királyné

Batu kán      IV. Béla      Zotmund (Búvár Kund)      Rogerius (egyházi történétíró,  
művének címe: Siralmas ének – szemtanú a tatárjárás idején)

7. Határozd meg vagy nevezd meg a hiányzó fogalmat!

Fogalom	Meghatározás
provincia	
	A sztyeppevidéki népeknél szokásos megerősítése egy megállapodásnak. A résztvevők pár csepp véruket egy borral töltött edénybe csorgatják, és mindannyian isznak belőle.
gótikus stílus	
	A keresztény szertartás része, a Krisztushoz tartozás jelképe (kenyér, bor).
majorság	
	Közös területen élő, azonos származású és nyelvű nemzetségek közössége.
céh	
	A jobbágyok által az egyháznak fizetett adó, a termés tizedrésze.
katolikus	
	Egyistenhitű vallás, amelyet Mohamed próféta alapított a VII. században. Szent könyve a Korán.

8. Melyik nép tette ismertté? Válaszolj egy nép nevével!

mai betűink, írásunk: .....

pálosok: .....

színházművészet: .....

balzsamozás: .....

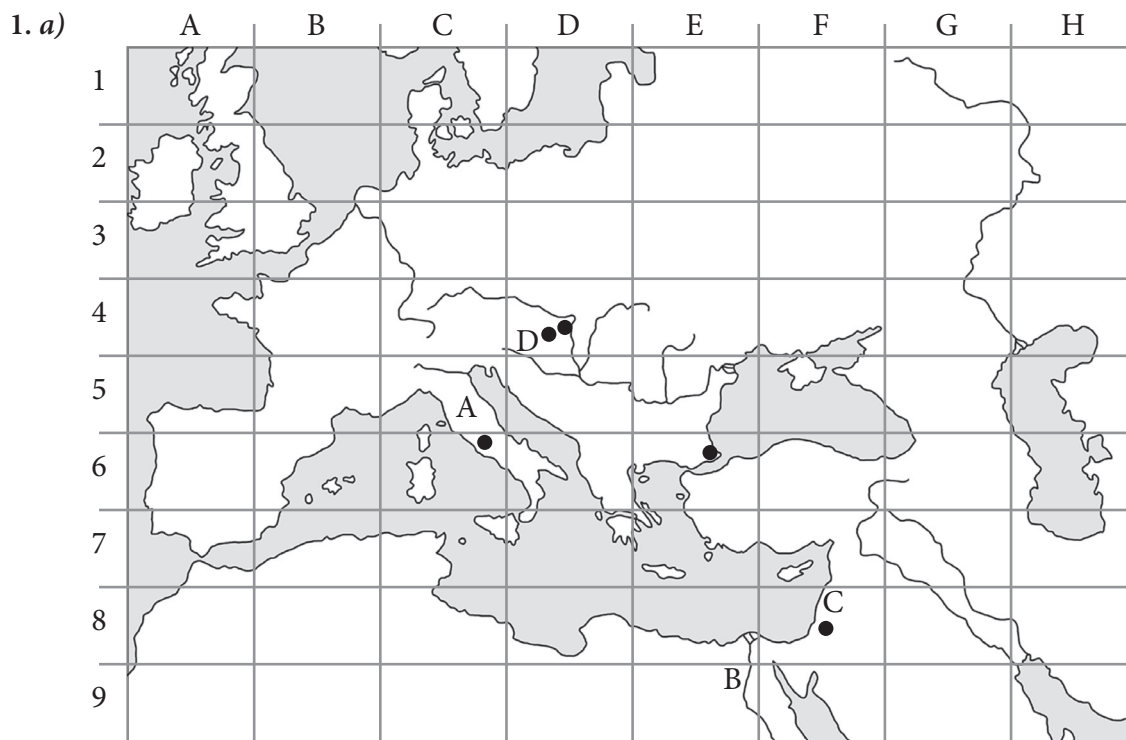
könyvnyomtatás: .....

demokrácia: .....

egyistenhitű vallás: .....

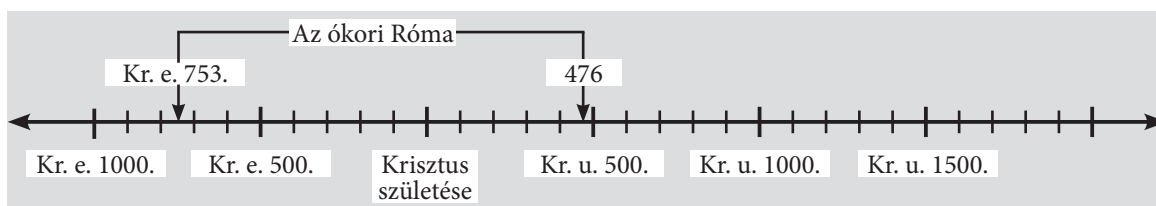
olimpiai játékok: .....

# MEGOLDÁS



b) C6 – Róma F8 – Jeruzsálem E6 – Konstantinápoly/Bizánc  
 D4 – Aquincum D4 – Székesfehérvár

2. Jelölni: A – 895 B – 476 C – 1222 D – Kr. e. 753.



3. a) Számítás:  $1301 - 1000 = 301$

Válasz: A Magyar Királyság korai szakasza 301 évig tartott.

b) Számítás:  $1241 - 476 = 765$

Válasz: A magyarországi tatárjárás a középkor 765. évében kezdődött.

4. A könyvnyomtatás feltalálása és elterjedése Európában: XV. sz.

A Magyar Királyság alapítása: XI. sz.

A keresztes háborúk kezdete: XI. sz.

A Nyugatrómai Birodalom bukása: V. sz.

A keresztény vallás kialakulása: I. sz.

Magyar kalandozó hadjáratok: IX–X. sz.

Reneszánsz: XIV–XV. sz.

5. vízvezetékek építése a Római Birodalomban – az öntözéses földművelés kezdete Egyiptomban a keresztény időszámítás kezdete – az iszlám időszámítás kezdete a középkor kezdete – az első lejegyzett olimpiai játékok

6. Julius Caesar      Nagy Konstantin      Augustus  
Leonardo da Vinci      Michelangelo      Nagy Károly frank uralkodó  
Attila      Koppány      Imre herceg      Gizella királyné  
Batu kán      IV. Béla      Zotmund (Búvár Kund)      Rogerius (egyházi történetíró, művének címe: Siralmas ének – szemtanú a tatárjárás idején)

7. provincia      A rómaiak által meghódított, Itálián kívüli tartomány.  
vérszerződés      A sztyeppevidéki népeknél szokásos megerősítése egy megállapodásnak. A résztvevők pár csepp vérüket egy borral töltött edénybe csorgatják, és mindannyian isznak belőle.  
gótikus stílus      A román kort követő művészeti stílus. Jellemzői: csúcsíves formák, hatalmas, színes üvegű ablakok.  
úrvacsora      A keresztény szertartás része, a Krisztushoz tartozás jelképe (kenyér, bor).  
majorság      A földesúri birtok része, amely a földesúr saját kezelésében áll. A jobbágyok művelik meg robotmunkával.  
nép/nemzet      Közös területen élő, azonos származású és nyelvű nemzetségek közössége.  
céh      A középkorban az azonos foglalkozású iparosok és kereskedők szervezete.  
dézma      A jobbágyok által az egyháznak fizetett adó, a termés tizedrésze.  
katolikus      A görög szó jelentése: egyetemes. A keresztény vallás egyik ága, vezető főpapja a pápa.  
iszlám      Egyistenhitű vallás, amelyet Mohamed próféta alapított a VII. században. Szent könyve a Korán.

8. mai betűink, írásunk: rómaiak  
pálosok: magyarok  
színházművészet: görögök  
balzsamozás: egyiptomiak  
könyvnyomtatás: németek  
demokrácia: görögök  
egyistenhitű vallás: zsidók  
olimpiai játékok: görögök